

21/3/2020

Καλά μου παιδάκια,  
πόσο μου λείψετε να φέρατε... πόσο θα ήθε-  
λα να συνεχίσαμε τα μαθήματά μας και  
τις όμορφες κουβεντούλες μας... Τι να  
γίνει όμως; Θα κάνουμε υιοθεσία και  
είμαι σίγουρη ότι όλα θα πάνε καλά και  
σύντομα θα ξαναβρούμε ανανεωμένους  
και ξεκούραστους.

Σήμερα έφτιαξα για σας μια ομαδούλα ασκή-  
σεων μαθηματικών, την οποία θα ήθελα  
να την αντιμετωπίσετε σαν ένα διαγωνί-  
σμα. Αφήστε λοιπόν, μακριά τα βιβλία, κα-  
θώς και τη βοήθεια της μαμάς και  
του μπαμπά και ξεκινήστε. Προσοχή όμως!  
Θα βάζετε το ρολόι να χτυπήσει σε μια  
ώρα και τότε θα σταματήσετε. Για δοκιμά-  
στε λοιπόν αλλά... δίκαια και τίμια.

Καλή επιτυχία!!!

η δασκάλα σας

Μαριέττα

## Επαναληπτικό μάθημα

1. Να κάνεις τους πολλαπλασιασμούς:

α)  $39 \times 28$    β)  $45 \times 52$    γ)  $318 \times 7$

2. Να κάνεις τις πράξεις:

α)  $29 \times 100$    β)  $3 \times 1.000$    γ)  $256 \times 10$   
δ)  $2.750 : 10$    ε)  $1.800 : 100$    στ)  $2.000 : 1.000$

3. Να μετατρέψετε τα δεκαδικά κλάσματα σε δεκαδικούς αριθμούς:

$$\frac{53}{10}, \frac{503}{100}, \frac{53}{100}, \frac{503}{10}$$

Στη συνέχεια να βάλετε τους δεκαδικούς αριθμούς στη σειρά από τον μικρότερο στον μεγαλύτερο.

4. Αγόρασα ένα βιβλίο. Έδωσα ένα χαρτονόμισμα των 10 €, 2 κέρματα των 2 € και ένα κέρμα των 50 λεπτών. Πήρα πίστα 2 κέρματα των 10 λεπτών και 1 κέρμα των 5 λεπτών.

α) Πόσα ευρώ έδωσα;

β) Πόσα ευρώ πήρα πίστα;

γ) Πόσα ευρώ κόστισε το βιβλίο;

5. Υπολογίστε και συζητήστε το αποτέλεσμα στις πράξεις:

$$\begin{array}{r} 1426 \\ + 1375 \\ \hline \end{array}$$

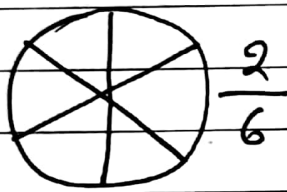
$$\begin{array}{r} 2786 \\ - 1254 \\ \hline \end{array}$$

$$\begin{array}{r} 2345 \\ - 1428 \\ \hline \end{array}$$

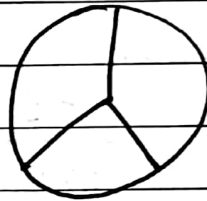
$$1450 - 400 =$$

$$2850 - 1400 =$$

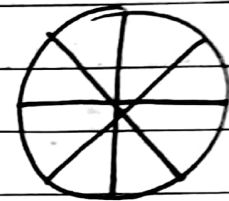
6. Χρωματίστε το μέρος που δείχνει το κλάσμα



$$\frac{2}{6}$$



$$\frac{1}{3}$$



$$\frac{5}{8}$$

7. Αγοράσες 15 τετρακίδες που ο καθένας έχει 25 γίτρα γάδι.

α) Πόσα γίτρα γάδι αγοράσες;

β) Αν κάθε γίτρο γάδι κοστίζει 5€, πόσα ευρώ ηγήρωσες συνολικά;

8. Βρες και κύκλωσε την απάντηση που φαίνεται να είναι πιο κοντά στο σωστό αποτέλεσμα

$$15,4 + 23,2$$

$$44,7 - 22,3$$

380	480	38	386	220	22	2.200	224
-----	-----	----	-----	-----	----	-------	-----